



مجتمع آموزشی پویندگان رسالت

ارزشیابی ریاضی آذر ماه

دبستان پسرانه

معلم : خانم عابدی

پایه : دوم

نام و نام خانوادگی :

1. کوچکترین عدد دو رقمی و بزرگ ترین عدد دو رقمی است .

2. الگوی عددی را ادامه بده .

$$۳ - ۶ \quad _ \quad _ \quad _ \quad _$$

$$۴۰ - ۴۵ \quad _ \quad _ \quad _ \quad _$$

$$۳۰۰ - ۴۰۰ \quad _ \quad _ \quad _ \quad _$$

3. حاصل جمع ها را بدست آورید .

$$۱۰ + ۵ + ۲۰ + ۱۰ + ۲ =$$

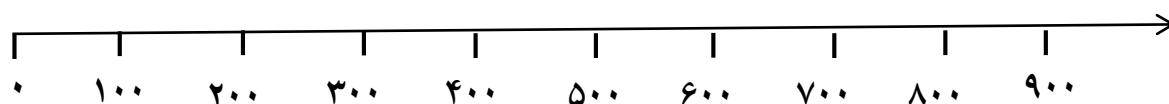
$$۸ + ۸ + ۸ =$$

$$۴ + ۱۰ + ۲۰ + ۵ + ۵ + ۳ =$$

$$۴ + ۴ + ۴ =$$

4. حاصل عبارت زیر را با استفاده از محور حساب کن .

$$۹۰۰ - ۳۰۰ =$$



5. حاصل جمع و تفریق ها را بنویسید .

$$۲۰ + ۵۰ =$$

$$۹۰ - ۴۰ =$$

$$۸۰ - ۳۰ =$$

$$۳۰ + ۳۰ =$$

$$۱۰۰ - ۵۰ =$$

6. زهرا دیروز ۲۷ عدد تخم خرید او با ۱۴ تا آن شام درست کرد . چند تخم مرغ باقی مانده است ؟
(فرایندی)

7. ساعت ۵ می باشد . ۲ ساعت و نیم دیگر ساعت چند است ؟

8. جمع و تفریق های زیر را به صورت فرآیندی انجام دهید .


$$\begin{array}{r} 53 \\ + 46 \\ \hline \end{array}$$

$$\begin{array}{r} 62 \\ + 27 \\ \hline \end{array}$$

$$\begin{array}{r} 59 \\ - 23 \\ \hline \end{array}$$

$$\begin{array}{r} 86 \\ - 44 \\ \hline \end{array}$$

9. نام شکل ها را نوشته تفاوت و شباهت آن ها را بنویس .



10. از ۲۰۵ تا ۲۱۵ یکی یکی بنویس .

۲۰۵ _ ۲۰۶

۴۰۰ یعنی صد تایی
۶۰۰ یعنی صد تایی

۳ صد تا می شود تا
۷ صد تا می شود تا


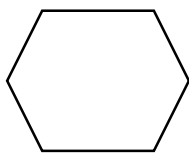
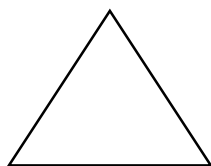
12. در جدول قرار بده .

۴ صدتایی و ۷ ده تایی و ۳ یکی

صدگان	ده‌گان	یکان

با عدد با حروف

13. برای هر شکل یک خط تقارن بکشید .



14. مستطیل گوشه و ضلع دارد .