

چند عدد دورقمی داریم که یکان و دهگان‌شان مثل هم باشند؟

- ۹ (۱) ۱۰ (۲) ۸ (۳) ۱۱ (۴)

با رقم‌های ۳، ۵ و ۷ چند عدد سه‌رقمی می‌توان نوشت؟

- ۲۷ (۱) ۱۸ (۲) ۱۲ (۳) ۶ (۴)

با استفاده از (۶، ۵ و ۰) چند عدد سه‌رقمی، بدون تکرار رقم‌ها می‌توان نوشت؟

- ۵ (۱) ۴ (۲) ۳ (۳) ۶ (۴)

چند عدد دورقمی می‌توان نوشت که رقم یکان آن‌ها، یکی از رقم‌های ۱، ۳ و ۵ و رقم دهگان آن‌ها، یکی از رقم‌های ۲، ۴ و ۶ باشد؟

- ۹ (۱) ۸ (۲) ۶ (۳) ۴ (۴)

در مدرسه‌ی آوین، ۱۰ صف ۱۰ نفره درست شده است و در کنار آن‌ها نیز ۹ نفر ایستاده‌اند. چند دانش‌آموز در این مدرسه هستند؟

- ۱۰۹ (۱) ۲۹ (۲) ۹۱ (۳) ۱۱۰ (۴)



۴ دانش‌آموز هر کدام دو جعبه‌ی مداد رنگی دارند، یک جعبه‌ی ۷ تایی و یک جعبه‌ی ۱۴ تایی. در هر جعبه‌ی ۷ تایی، ۲ مداد قرمز و در هر جعبه‌ی ۱۴ تایی، ۳ مداد قرمز وجود دارد. این ۴ دانش‌آموز در کل چند مداد قرمز دارند؟

- ۲۰ (۱) ۱۵ (۲) ۲۸ (۳) ۵۲ (۴)

حسن هر ۱۰ دقیقه ۵ تمرین حل می‌کند. او در ۱ ساعت، چند تمرین حل می‌کند؟

- ۳۰ (۱) ۵۰ (۲) ۶۰ (۳) ۱۵ (۴)



به چند حالت می‌توان با سکه‌های ۵۰ و ۱۰۰ ریالی، ۳۰۰ ریال ساخت؟

- ۵ (۱) ۲ (۲) ۴ (۳) ۳ (۴)

آخرین رقم از سمت چپ عددی در مرتبه‌ی هزارگان است. این عدد چندرقمی است؟

- ۳ (۱) ۴ (۲) ۵ (۳) ۶ (۴)

کشاورزی ۸ دسته‌ی گندم را بسته‌بندی کرد. اگر هر دسته شامل ۱۰۰۰ خوشه‌ی گندم باشد، این کشاورز در کل چند خوشه‌ی گندم بسته‌بندی کرده است؟

- ۱۸۰۰ (۱) ۸۰۰۰ (۳) ۱۰۰۰۸ (۴) ۸۰۰ (۲)

محمد سکه‌های ۱۰ ریالی خود را در دسته‌های ۱۰ تایی بسته‌بندی کرده است تا ۲۰ دسته از آن‌ها را به مدرسه تحویل دهد. او به‌جای این سکه‌ها، چند اسکناس ۱۰۰۰ ریالی می‌تواند تحویل دهد؟

- ۲ (۱) ۳ (۲) ۴ (۳) ۱ (۴)

بزرگ‌ترین عدد چهاررقمی غیر تکراری که تمام رقم‌هایش فرد باشد، کدام است؟

- ۹۷۵۱ (۱) ۹۷۵۳ (۲) ۹۵۷۳ (۳) ۹۳۵۷ (۴)

۱۳ عدد «سه هزار و بیست و نه» کدام است؟

۳۲۰۹ (۴)

۳۲۹۰ (۳)


۲۰۲۹ (۲)

۳۲۹ (۱)

۱۴ اگر هر مکعب نشانه‌ی هزار باشد، کدام شکل ۸۰۰۰ را نشان می‌دهد؟



(۴)



(۳)

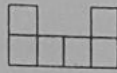


(۲)

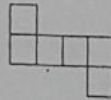


(۱)

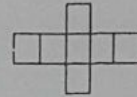
۱۵ کدام شکل باز شده‌ی یک مکعب است؟



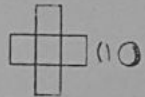
(۴)



(۳)



(۲)



(۱)



۱۶ یک اسکناس ۲۰۰۰ تومانی، مساوی چند سکه‌ی ۵۰۰ تومانی است؟

۳ (۲)

۲ (۱)

۵ (۴)

۴ (۳)

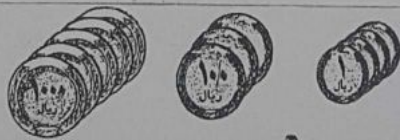
۱۷ دُرناز ۱۰۰ تومان داشت. ۱۰۰ ریال آن را به فرید داد. چه قدر برایش باقی مانده است؟

۹۰۰ ریال (۲)

۹۰ تومان (۱)

گزینه‌های (۱) و (۲) (۴)

چیزی باقی نمانده است. (۳)



۱۸ کدام جدول ارزش مکانی، عدد شکل مقابل را نشان می‌دهد؟

یکان	دهگان	صدگان	هزارگان
۳	۰	۴	۵

(۲)

یکان	دهگان	صدگان	هزارگان
۰	۳	۴	۵

(۱)

یکان	دهگان	صدگان	هزارگان
۰	۴	۳	۵

(۴)

یکان	دهگان	صدگان	هزارگان
۴	۰	۳	۵

(۳)

۱۹ من عددی چهاررقمی هستم. یکانم بزرگ‌ترین عدد یک‌رقمی و دهگانم ۳ تا کم‌تر از یکانم و هزارگانم کوچک‌ترین عدد و صدگانم


۳ تا بیش‌تر از هزارگانم است. من چه عددی هستم؟

۱۴۵۸ (۴)

۱۵۷۹ (۳)

۱۴۶۹ (۲)

۹۴۶۱ (۱)



۲۰ شکل روبه‌رو چه عددی را نشان می‌دهد؟ (به عدد و حروف)

۱۳,۳۲۷، هزار و سیصد و بیست و هفت (۱)

۱۳,۳۲۷، هزار و سیصد و سی و هفت (۲)

۶,۳۲۷، شش هزار و سیصد و بیست و هفت (۳)

۶,۳۳۷، شش هزار و سیصد و سی و هفت (۴)

عدد ۸,۷۴۲، یعنی ۹ یکی، صدتایی، ده‌تایی و هزارتایی.

۸-۷-۲-۴ (۴)

۸-۴-۷-۲ (۳)

۸-۷-۴-۲ (۲)

۲-۴-۷-۸ (۱)

عدد یعنی ۹ یکی، ۶ ده‌تایی، ۴ هزارتایی و صفر صدتایی.

۹۰۴۶ (۴)

۹۶۰۴ (۳)

۴۶۰۹ (۲)

۴۰۶۹ (۱)

آزمون املا درس چهارم آواز گنجشک

۱- معنی کلمه های زیر را بنویسید.	علاقه:	آسیب:	مشورت:	یادداشت:
زبان آور:	بعضی:	گوش خراش:	مقتضد کلمه های زیر را بنویسید.	سر و صدا:
منتظر:	خوشحال:	قشنگ:	۳- هم خانواده (هسته ای) کلمه های زیر را بنویسید.	سکوت:
۲- شاعر هر کدام از شعرها را بنویسید.	حال:	عصو:	شعر پدر بزرگ:	شعر هم بازی:
شعر خداوند رنگین کمان:	شعر را کامل کنید.	رود آن:	کودکی با:	فایقی کوچک:
۵- شعر را کامل کنید.	فایقی را لب رود
۴- دو کلمه مرتبط با بهداشت اجتماعی بنویسید؟

آزمون املا درس سوم آسمان آبی طبیعت پاک

۱- معنی کلمه های زیر را بنویسید.	طبیعت:	نماینده:	طبیعت:	جلو:	دامه ی کوه:
اطراف:	گزارش گروهی:	دیده بزرگ:	۲- مفرد کلمات داده شده را بنویسید.	حیوانات:	قطعات:
جوی:	گویا:	دلپذیر:	۳- کدام گزینه غلط املایی ندارد.	خاطرات:	اختراعات:
۱- صبح دلپذیر بحار به راه افتادیم.	خوانواده ها شاد بودند.	تمام هیوانات اطراف لانهی خود را تمیز می کنند.	تما شای قلله چه قدر لذت بخش بود.	۴- متن زیر را از حالت گفتار به نوشتاری تبدیل کنید.	گرچه رو دیوار حیاطمون نیشسته بود و به ماهیای تو حوضیگاه می کرد.

کلمات ستاره دار شعر خداوند
رنگین کمان

ستایش:

بخشایش:

سنجاقک:

صمیمی:

گینه:

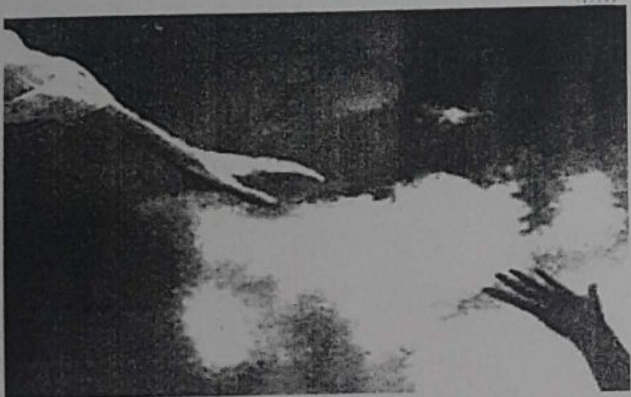
نام شاعر شعر خداوند رنگین کمان چیست؟

نمونه سوال هدیه درس اول

۱- آیه ی (الم نعمل له عینین و لسانا و شفین) یعنی چه ؟

۲- یکی از بهترین راه های تشکر از خدا چیست؟

۳- (اذکر وانعمه الله علیکم) یعنی چه ؟





پیک تکمیلی عدد نویسی

نکته: پسرم برای نوشتن اعداد سه رقمی استفاده از جدول ارزش مکانی بسیار کار ساز است.

۱	تمام عدد های سه رقمی را بنویسید که رقم دهگان آن ۶ و ۵ رقم یکان آن ۸ و ۱ و رقم صدگان آن ۲ و ۴ باشد. (با استفاده از جدول ارزش مکانی و نمودار)
۲	اختلاف بزرگترین عدد سه رقمی و کوچکترین عدد سه رقمی را بنویسید.
۳	مجموع بزرگترین عدد چهار رقمی و کوچکترین عدد سه رقمی را بنویسید.
۴	باز شده ی هر کدام از عدد های زیر رار بنویسید. ۳۴۵۶ ۵۶۳۹ ۹۵۳۲ ۷۵۳۰
۵	سه شنبه ۳۰ ماه آذر است چه روز هایی از ماه آبان سه شنبه است؟
۶	با استفاده از سکه های ۱۰ و ۱۰۰ و ۵۰ ریالی به چند حالت می توان ۲۰۰ ریالی درست کرد؟

۷	از عدد ۲۰۰۰ تا ۳۰۰۰ را ۱۰۰ تا ۱۰۰ بنویس.																																																								
۸	امروز چهارشنبه ۳۱ ماه مرداد است. چه روز های از ماه مرداد چهارشنبه است؟																																																								
۹	۱۷ ریال چند ریال و چند تومان است؟ ۳۵۰ ریال چند ریال و چند تومان است؟ ۴۸ ریال چند ریال و چند تومان است؟																																																								
۱۰	با سکه های ۲۰ و ۲۵ و ۵۰ ریال چگونه می توان عدد ۲۲۰ را بدست آورد. (با استفاده از جدول الگو)																																																								
۱۱	فیلم سینمایی کلاه قرمزی ساعت ۲۰ از شبکه دو پخش می شود. ۲۰ دقیقه تا زمان پخش فیلم مانده است. الان چه ساعتی است؟																																																								
۱۲	اعداد داده شده را در جدول ارزش مکانی بگذارید ..																																																								
	<table border="1"> <thead> <tr> <th></th> <th>یکان</th> <th>دهگان</th> <th>صدگان</th> <th>یکان هزار</th> <th>دهگان هزار</th> <th>صدگان هزار</th> </tr> </thead> <tbody> <tr> <td>۸۶۵۴۰۱</td> <td></td> <td></td> <td></td> <td></td> <td></td> <td></td> </tr> <tr> <td>۹۷۶۴۵</td> <td></td> <td></td> <td></td> <td></td> <td></td> <td></td> </tr> <tr> <td>۱۳۴۰۳</td> <td></td> <td></td> <td></td> <td></td> <td></td> <td></td> </tr> <tr> <td>۴۵۷۸۹</td> <td></td> <td></td> <td></td> <td></td> <td></td> <td></td> </tr> <tr> <td>۹۶۵۴۳۱</td> <td></td> <td></td> <td></td> <td></td> <td></td> <td></td> </tr> <tr> <td>۱۰۰۷۸۰</td> <td></td> <td></td> <td></td> <td></td> <td></td> <td></td> </tr> <tr> <td>۴۰۰۰۳</td> <td></td> <td></td> <td></td> <td></td> <td></td> <td></td> </tr> </tbody> </table>		یکان	دهگان	صدگان	یکان هزار	دهگان هزار	صدگان هزار	۸۶۵۴۰۱							۹۷۶۴۵							۱۳۴۰۳							۴۵۷۸۹							۹۶۵۴۳۱							۱۰۰۷۸۰							۴۰۰۰۳						
	یکان	دهگان	صدگان	یکان هزار	دهگان هزار	صدگان هزار																																																			
۸۶۵۴۰۱																																																									
۹۷۶۴۵																																																									
۱۳۴۰۳																																																									
۴۵۷۸۹																																																									
۹۶۵۴۳۱																																																									
۱۰۰۷۸۰																																																									
۴۰۰۰۳																																																									

امضاء ولی

نظر خواهی ولی :

ساعت شروع و پایان تکالیف:

ساعت خواب :

دخترم حرکت کن برای یاد گرفتن و یاد دادن و بدست آوردن چیز های با ارزش



مجتمع آموزشی پویندگان رسالت

درمان سراز

معلم:

پایه: سوم

نام و نام خانوادگی:

۱- در کدام کلمه (ها) نشانه ی جمع است ؟ رها تنها گلها منها

۲- در کدام کلمه (ان) نشانه جمع است ؟ گران مهران سلمان افسران

۳- در کلماتی مانند : (موجودات ، لحظات ، قطعات) (ات) نشانه ی چیست ؟

جزء کلمه است نشانه ی جمع است هردو هیچ کدام

۴- مخالف کلمه ی (مخصوص) چیست ؟ خصوصی خاص عمومی مشترک

۵- مخالف کلمه ی (دانایی) چیست ؟ نادان نادانی عالم غافل

۶- کدام گزینه جمله را کامل میکند ؟ ----- کانون های آموزشی را مکان فرهنگی می دانند .

آن ها مردم دانش آموزان همه گرفته ها

۷- چرا موزه ها به وجود آمدند ؟

برای نگه داری اشیای قدیمی برای پاسخ گویی به سوالات مردم درباره ی زندگی گذشتگان

برای حفاظت از میراث فرهنگی یک کشور همه موارد

۸- کدام گزینه هم خانواده (مربوط) است ؟ مرتب مرتبه رابطه رتبه

۹- کلمه های (مطالب ، طلب ، طلبه) با کدام گزینه هم خانواده است ؟

مطلع طالب اطلاعات مطب

۱۰- از ضرب المثل « هر چه کنی به خود کنی » آموختیم که :

با دست آلوده چیزی نخوریم عاقبت خوردن میوه نشسته ، بیماری است

هرکاری را برای دل خودمان انجام دهیم نتیجه خوب وید کارهایمان به خودمان بر می گردد

۱۱- از قصه ی بلدرچین و برزگر می توان آموخت که :

از دیگران کمک نخواهیم دل به کمک دیگران نبندیم و سعی کنیم کارهایمان را خودمان انجام دهیم

هر کسی از ما کمک خواست فوری به کمک او برویم دیگران را منتظر کمک نگذاریم

۱۲- کلمه ی « سر » به چند شکل خوانده می شود ؟ یک شکل دو شکل سه شکل چهار شکل

۱۳- زمان حال (خوابیدیم) کدام گزینه است ؟

خوابیده ایم خواهیم خوابید می خوابیم می خوابم

۱۴- هم خانواده کلمه ی (صبر) نیست ؟ صبور صابر بی صبرانه صادق

۱۵- کدام گزینه نیاز به تشدید ندارد ؟

محل خط کشی خط مریم خوش خطی بچه های محل

۱۴- در کدام گزینه غلط املایی وجود دارد؟

- گنبد فیروزه ای مسجد عضمت خاصی داشت چند مغازه در بازار چه مواد غذایی داشتند
 دروازه بان تیم ما بیمار شده و نیامده است امید در کلاس سوم ثبت نام کرده بود

۱۵- کدام کلمه با «ات» جمع بسته نمی شود؟ جمله حیوان دختر خاطره

۱۶- کدام گزینه از نظر ... نادرست است؟

- باعث دلیل آشغال: زباله دل نشین: خوشایند هم فکری: همراهی

۱۷- قصه ی تنگ بلور چگونه تمام شد؟

- دختر تنگ بلور بعد از دیدن موزه به خانه صنوبر رفت
 صنوبر خانه ی تازه ای برای دختر پیدا کرد
 دختر تنگ بلور در موزه، خانه ی تازه ای پیدا کرد
 صنوبر خانه ی قدیمی دختر تنگ بلور را در موزه گذاشت

۱۸- چه موجوداتی اطراف خانه ی خود را ته ییز میکنند:

- انسان ها جانورانی که لانه دارند جانورانی که لانه ندارند انسان و تمام حیوانات

۱۹- کدام دسته از کلمه ها با کلمه ی (مطلب) هم خانواده است؟

- طلب، لطیف مطالب، مطب مطالب، مطلبی اطراف، طب

۲۰- کدام گزینه درست است؟

فرهنگستان زبان و ادب فارسی یکی از نهاد های اجتماعی است.

تنها وظیفه ی فرهنگستان زبان و ادب فارسی ساختن واژه های فارسی به جای کلمه های خارجی است

فرهنگستان واژه ی فارسی «رایانه» را به جای کامپیوتر قرار داد است

- تلاش فرهنگستان زبان و ادب فارسی حفظ نگه داری زبان فارسی است

بیشتر بدانیم: آیا میدانید فرهنگستان زبان و ادب فارسی به جای این کلمه ها، چه کلمه را گذاشته است.

ترمینال:	آدرس:	پرانتنز:	اتوبان:	کادو:
موبایل:				
هلی کوپتر:	پاراگراف:	فاکس:	فلش:	فیش:
مرسی:	تست:	کوپن:	تله تکست:	

موفق باشید. قرایی